


LWL-Freilichtmuseum Detmold

Gräftenhof

1

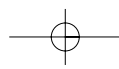


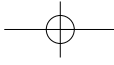
*Arbeitsbogen
Museumspädagogik*



LWL

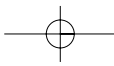
Für die Menschen.
Für Westfalen-Lippe.

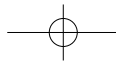




Text & Idee: LWL-Freilichtmuseum Detmold | Westfälisches Landesmuseum für Volkskunde
Zeichnungen: Peter Schubert
Layout: Christina Glüntzer, Bielefeld
Fotonachweis: LWL-Freilichtmuseum Detmold | Westfälisches Landesmuseum für Volkskunde

© Landschaftsverband Westfalen-Lippe, 2009





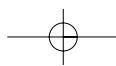
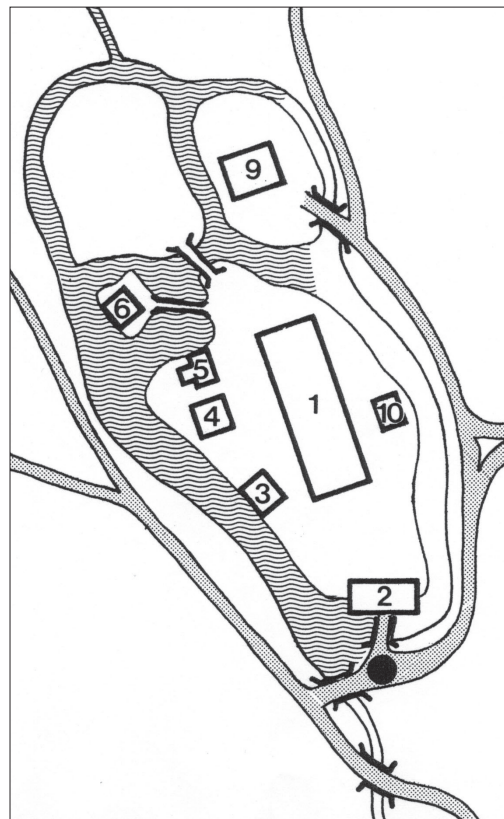
Dieser Arbeitsbogen soll Dir eine Hilfe zum Erkunden und Kennenlernen des Museums sein. Durch ihn wirst Du erfahren, wie die Menschen auf diesem Hof gearbeitet haben.

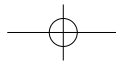


Du stehst jetzt an diesem Wassergraben vor der Brücke!

Hier siehst Du einen Grundrissplan von diesem Hof. Dieser Plan soll Dir helfen, Dich besser auf dem Hof zurechtzufinden. Deshalb hat jedes Gebäude auf dem Plan eine Nummer erhalten.

Du stehst jetzt dort, wo dieses Zeichen ● ist.





Du hast bestimmt schon gesehen, dass dieser Hof ganz von Wassergräben umgeben ist. Diese **Wassergräben** heißen **Gräften** und ein solcher Hof heißt **Gräftenhof**.

Im Münsterland gab es früher einige hundert Gräftenhöfe.
Diese Höfe sind schon sehr alt. Es gab sie schon im 12. Jahrhundert.

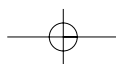
Das **Haupthaus dieses Hofes** stammt aus dem **18. Jahrhundert**. Die Nebengebäude sind entweder älter oder jünger.


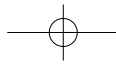
Warum hat der Besitzer eines Gräftenhofes seinen Hof von allen Seiten mit Wassergräben umgeben?



Kreuze die Lösung an, die nach Deiner Meinung richtig ist!

- Weil man auf den Gräben Enten und andere Wasservögel halten konnte.
- Weil die Gräben ein Schutz gegen Diebe und andere Eindringlinge sein konnten.
- Weil sich die Gräben gut zur Fischzucht eignen.



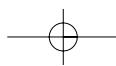


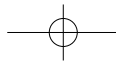
Das Haus an der Brücke heißt Torhaus. Hier siehst Du eine Zeichnung der Vorderfront des Torhauses. Diese Zeichnung ist nicht vollständig. Zeichne Du die fehlenden Teile ein!

Welchen Zweck mögen die Teile gehabt haben, die Du in der Zeichnung ergänzt hast?



Gehe jetzt in das Torhaus! Du siehst, dass der Bauer diesen Raum als Abstellplatz für seine Arbeitsgeräte und Fahrzeuge nutzen konnte.





Nenne mindestens 3 der abgebildeten Geräte oder Fahrzeuge!



Gehe jetzt aus dem Torhaus und biege sofort rechts um die Ecke!
Dort befindet sich eine kleine Werkstatt, in der der Bauer einige Arbeiten machen lassen konnte.

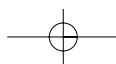
Sieh Dir die Maschinen und Werkzeuge an!

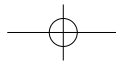
Weche Arbeiten konnte man mit dieser Werkstatteinrichtung machen?



Kreuze alle richtigen Lösungen an!

- Hier konnte Holz **gesägt** werden.
- Hier konnten Geräte für die Feldarbeit **geschmiedet** werden.
- Hier konnten Beile **geschliffen** werden.
- Hier konnten Bretter **gehobelt** werden.
- Hier konnten Krüge und Kannen **getöpft** werden.
- Hier konnten **Stiele** für Äxte **gemacht** werden.
- Hier konnten Kupferkessel **gelötet** werden.
- Hier konnten Löcher in Holz **gebohrt** werden.
- Hier konnten Radnaben **gedrechselt** werden.





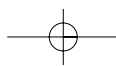




Gehe jetzt zu dem Gebäude Nr. 3!

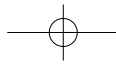
Wozu wurde dieses Haus genutzt?



Du siehst hier die Fotos von 4 verschiedenen Gefachen.
Stelle fest, welches Gefach zu diesem Haus gehört!

X **Kreuze das richtige Foto an!**






Warum hat man an diesem Haus so gemauert, dass immer Lücken dazwischen sind?



Gehe jetzt zu dem Gebäude Nr. 4!

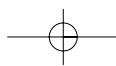
Du siehst hier eine Zeichnung des Gebäudes. Ein wichtiger Teil am Giebel ist nicht eingezeichnet.

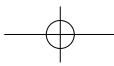
Zeichne das fehlende Teil ein!



Welche Arbeit konnte mit diesem Teil gemacht werden?







Du hast bestimmt festgestellt, dass das fehlende Teil ein Aufzug ist.
Mit ihm konnten Säcke hochgezogen werden. Denn in diesem Haus
wurde Korn gelagert. Dieses Gebäude war ein Kornspeicher.

Stelle fest, in welchem Jahr der Speicher gebaut worden ist!

Dieser Speicher stammt aus dem Jahr _____



Gehe jetzt zu dem Gebäude Nr. 5!

Wie wurde dieses Gebäude genutzt?

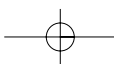


X **Kreuze die richtige Lösung an!**

- Hier wurde
- Holz gelagert.
 - Brot gebacken.
 - Korn gespeichert.
 - Vieh gehalten.


Sieh Dir jetzt den Backofen an!

Wo befand sich in diesem Ofen das Feuer und wo das Brot?


Zeichne Pfeile!



Zuerst musste in diesem Backofen ein starkes Feuer mit Holzscheiten gemacht werden. Wenn die Steine des Ofens ganz heiß waren, wurden die Glut und die Asche aus dem Ofen genommen.

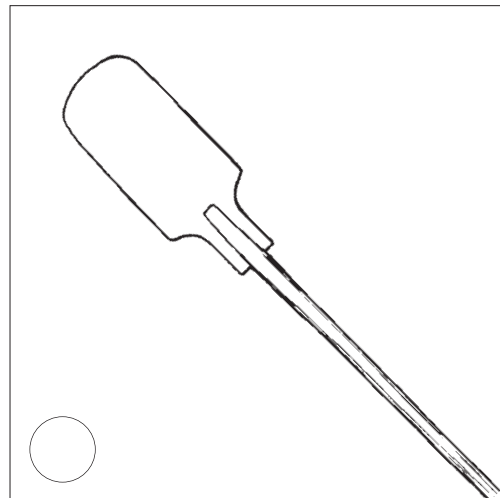
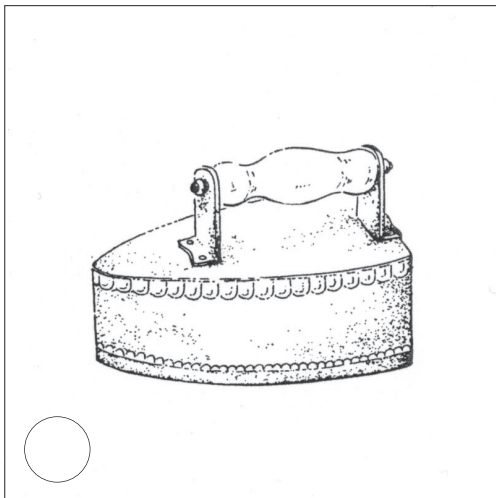
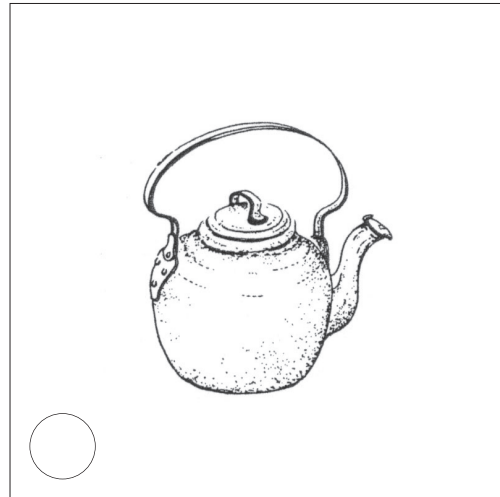
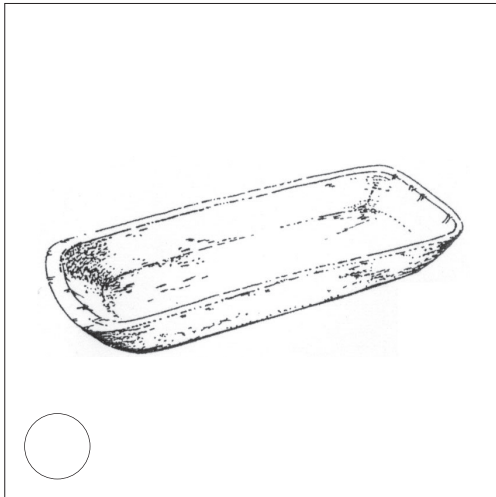


Dann wurde das Brot eingeschoben und der Ofen verschlossen. Nach einigen Stunden war das Brot gebacken.



Du siehst hier die Zeichnungen von einigen Arbeitsgeräten.
Welche Geräte wurden beim Backen benötigt?

X Kreuze die richtigen Geräte an!



Warum haben die Menschen auf diesem Hof ihr Brot selbst gebacken?


X Kreuze die richtige Antwort an!

- Das selbst gebackene Brot schmeckte besser.
- Um 1800 gab es noch keinen Bäcker, bei dem man das Brot hätte kaufen können.
- Nur in den Städten gab es Bäcker und die Entfernung dorthin war zu groß.

Gehe jetzt zum Haus Nr. 6!

Du siehst hier eine Zeichnung von dem Haus und dem Graben.
Ein wichtiger Teil ist nicht eingezeichnet.

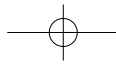
Zeichne Du es ein!



Warum ist dieses Haus mit einem Wassergraben von allen anderen Gebäuden abgetrennt?

X Kreuze die richtigen Lösungen an!

- Der Graben war eine zusätzliche Sicherung vor Eindringlingen, und das Gebäude konnte den Bauern und seinen wertvollsten Besitz schützen
- Wenn das Haupthaus brannte, konnte der Wassergraben diesen Speicher schützen, auch Feuer zu fangen.
- In diesem Speicher war das Getreide durch den Graben vor Ratten und Mäusen besonders geschützt.

**Gehe jetzt zum Haus Nr. 10!**

Dieses Haus ist verschlossen, so dass Du nicht selbst feststellen kannst, welche Funktion dieses Nebengebäude gehabt hat.


Dieses Haus war der Stall für die Schweine. Es heißt deshalb **Schweinehaus!**

In dem großen Haupthaus befinden sich die Wohn- und Schlafräume für die Menschen aber auch die Ställe für Pferde und Kühe.

Warum hat man den Schweinestall außerhalb des Haupthauses gebaut?

X **Kreuze die richtige Lösung an!**

- Schweine machen zu viel Lärm.
- Die Schweine vertragen sich nicht mit Kühen und Pferden.
- Die Schweine stinken so stark, dass die Menschen nicht gern mit ihnen in einem Haus sein wollten.



Du hast jetzt gelernt, wie die Nebengebäude auf diesem Hof genutzt wurden. Wenn Du erfahren möchtest, wie die Menschen in dem Haupthaus gewohnt und gearbeitet haben, dann musst du den Arbeitsbogen »Gräftenhof 2« durcharbeiten!

