

LWL-Freilichtmuseum Detmold

Gräftenhof

2

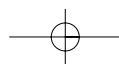


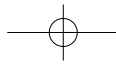
*Arbeitsbogen
Museumspädagogik*



LWL

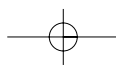
Für die Menschen.
Für Westfalen-Lippe.

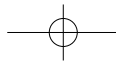




Text & Idee: LWL-Freilichtmuseum Detmold | Westfälisches Landesmuseum für Volkskunde
Zeichnungen: Peter Schubert
Layout: Christina Glüntzer, Bielefeld
Fotonachweis: LWL-Freilichtmuseum Detmold | Westfälisches Landesmuseum für Volkskunde

© Landschaftsverband Westfalen-Lippe, 2009





Dieser Arbeitsbogen soll Dir eine Hilfe sein, das Haupthaus des Gräftenhofes selbstständig zu erkunden. Durch ihn wirst Du erfahren, wie auf diesem Hof gearbeitet wurde.



Du stehst jetzt vor dem Haupthaus.

Über dem Toreingang befindet sich der Torbalken mit einer Inschrift.

Sieh Dir die Inschrift an und beantworte folgende Fragen!

Wie hieß der Besitzer des Hofes?

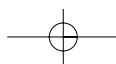
Der Besitzer hieß: _____

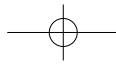
Wie hieß seine Frau?

Seine Frau hieß: _____

In welchem Jahr wurde das Haupthaus gebaut?

Das Haupthaus wurde im Jahre _____ gebaut.





Gehe jetzt in das Haupthaus hinein!

Du siehst hier einen Grundrissplan, auf dem alle Räume dieses Hauses eingezeichnet sind.

Gehe durch alle Räume und stelle fest, wie die Räume genutzt wurden!

Kennzeichne die Nutzung der Räume auf dem Grundrissplan mit Buchstaben:

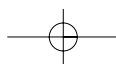
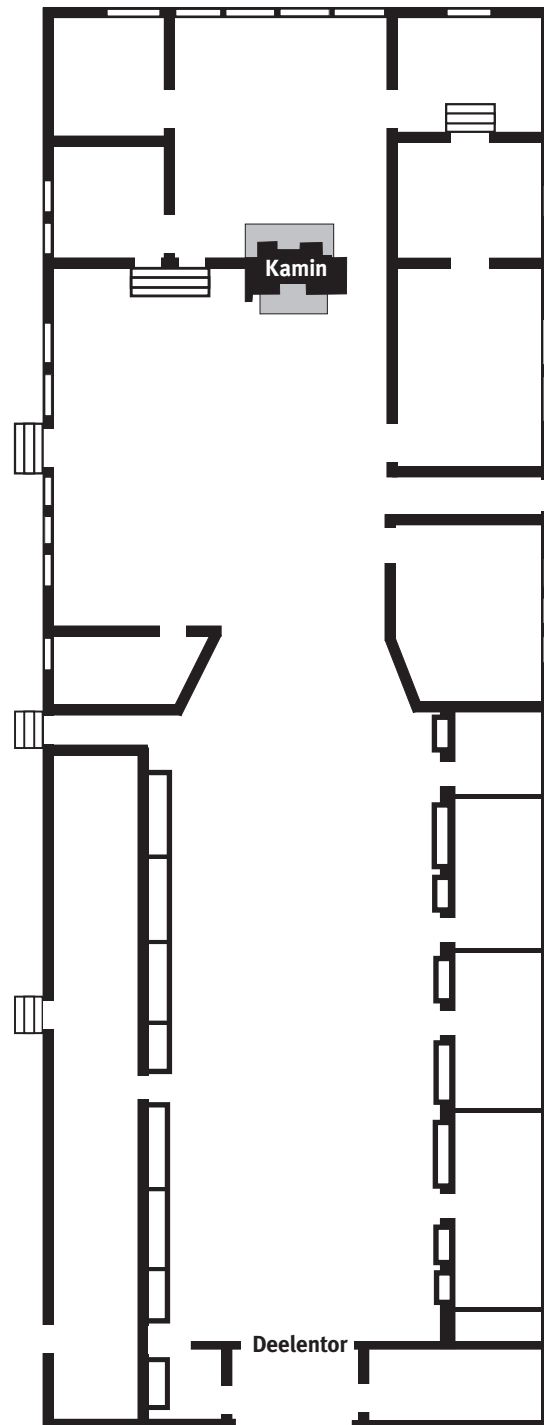
für **Wohnen** trage **W** ein,

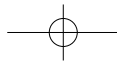
für **Arbeiten** trage **A** ein,

für **Schlafen** trage **S** ein und

für **Viehhaltung** trage **V** ein!

Wenn ein Raum mehrere Zwecke zu erfüllen hatte, dann trage alle zutreffenden Buchstaben ein!





Der große Raum, den Du vom Tor aus zuerst betreten hast, heißt **Deele** (Diele).

Wie lang ist die Deele?

X **Kreuze die richtige Antwort an!**

- ca. 10 m ca. 20 m ca. 40 m



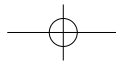
Die Deele war der Platz, auf dem sehr viele Arbeiten verrichtet wurden.

Kennst Du einige der Arbeiten?

X **Kreuze alle richtigen Lösungen an!**

- Auf der Deele wurde Brot gebacken.
- Auf der Deele wurde das Getreide gedroschen und gereinigt.
- Auf der Deele wurde die Fütterung der Tiere vorbereitet.
- Auf der Deele wurde Butter gestampft.





Links und rechts von der Deele befinden sich die Ställe für die **Kühe** und **Pferde**.

Du siehst hier die Zeichnungen von der Vorderseite der Ställe.
Die Zeichnungen sind aber nicht vollständig.



Zeichne Du die fehlenden Teile ein!



Du siehst hier zwei Fotos von den Wänden dieser Ställe.

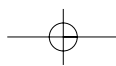


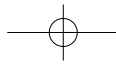
Welches Foto gehört zu welchem Stall?



Zeichne Verbindungslinien von den Fotos zu den Zeichnungen!

Um diese Aufgabe lösen zu können, musst Du aus dem Haus gehen und
Dir die Außenwand ansehen!



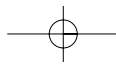




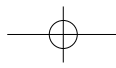
Du hast jetzt festgestellt, dass die Rückwand des einen Stalles aus stabilen Bohlen besteht. Die Rückwand des anderen Stalles besteht aus harten Steinen, die beim Ausschlagen der Tiere die Hufe verletzen können.

Wer brauchte den Stall mit der Bohlenrückwand? Die Kühe oder die Pferde?



Zeichne Verbindungslinien zwischen den Fotos und den Zeichnungen!





Auf dem Boden über der Deele wurde die Ernte gelagert. Man fuhr mit dem großen Erntewagen auf die Deele, um das Getreide durch die Öffnung (Luke) auf den Boden zu heben.

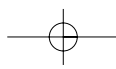


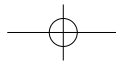
Wieso konnten die großen Erntewagen auf der Deele fahren, obwohl der senkrechte Balken im Tor steckte?



Gehe jetzt auf der Deele weiter in das Haupthaus bis zu der Feuerstelle!

Diesen Raum musstest Du auf Deinem Plan mit den Buchstaben A (Arbeiten) und W (Wohnen) markieren. Dieser Raum war die Wohnküche. Denn hier wurden nicht nur **Küchenarbeiten** verrichtet, sondern hier wurde auch **gegessen** und der **Feierabend** mit kleinen Arbeiten und Gesprächen **verbracht**.






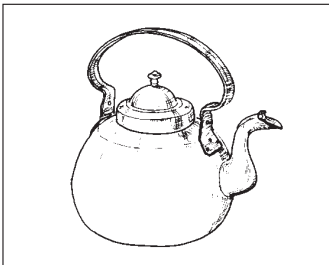
Du siehst hier die Zeichnungen von einigen Gegenständen, die für Küchenarbeiten benutzt wurden. Welche Arbeiten wurden mit diesen Gegenständen ausgeführt?



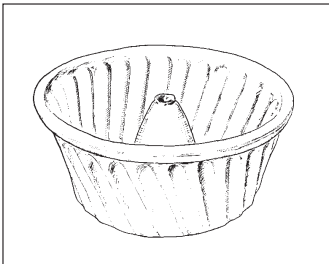
Ordne zu mit Linien!



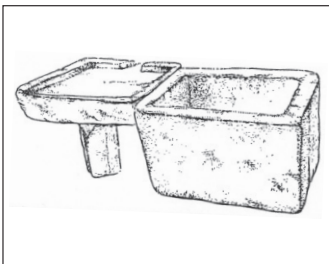
Kuchen backen



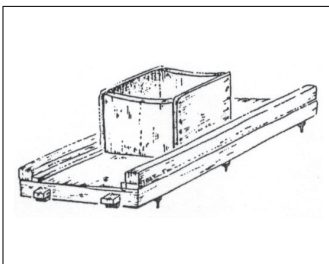
Kohl schneiden



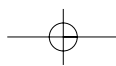
Geschirr abwaschen

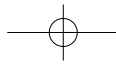


Brot schneiden



Wasser kochen





Du hast Dir jetzt die Küchengeräte und das Geschirr angesehen. Aus welchen Materialien ist das Geschirr (Kessel, Töpfe, Schöpfkessel, Teller usw.) gemacht?

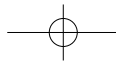
Nenne mindestens 3 Materialien!

In einem Nebenraum der Wohnküche steht dieses Gerät.

Suche diesen Raum!

Das abgebildete Gerät ist ein Stampfbutterfass.
Mit diesem Gerät konnte die Sahne zu Butter gestampft werden.

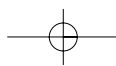
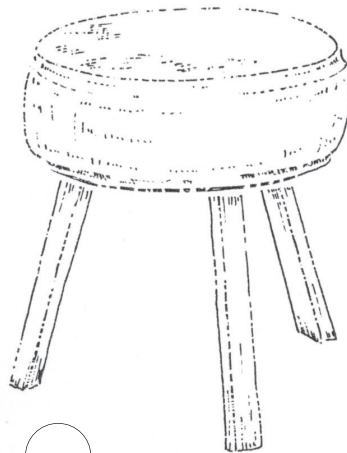

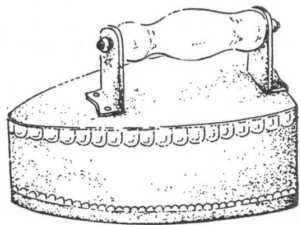
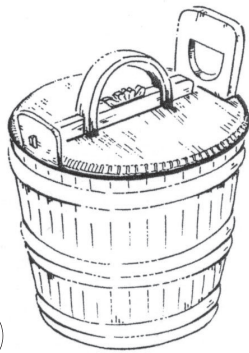


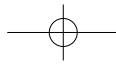


Du siehst hier die Zeichnungen von einigen Gegenständen.

Welche der abgebildeten Gegenstände stehen noch in diesem kleinen Raum?

X Kreuze die richtigen Zeichnungen an!

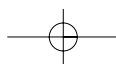
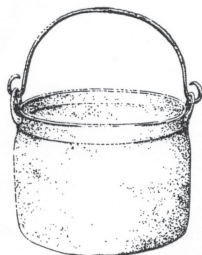
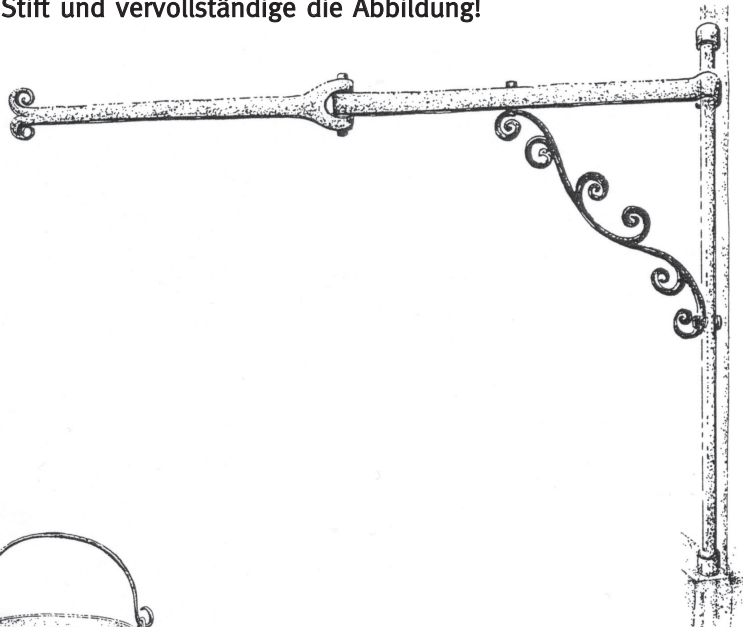


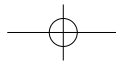
**Welchen Zweck hatte dieser Raum?****Kreuze die richtigen Antworten an!**

- Hier wurden die Geräte für die Feldarbeit aufbewahrt.
- Hier wurde die Milch zu Butter verarbeitet.
- Hier wurde Wäsche gebügelt.
- Hier wurde Fleisch zerkleinert.
- Hier wurde Bier gelagert.
- Hier wurde Wasser gekocht.

Gehe jetzt zu der Feuerstelle!

Dort befindet sich diese Vorrichtung. Diese Zeichnung ist aber nicht vollständig.

**Nimm Deinen Stift und vervollständige die Abbildung!**



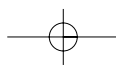
An dieser Feuerstelle wurde das Essen für alle, die auf diesem großen Hof lebten, zubereitet. Weil das Essen in **einem** großen Topf gekocht wurde, nennt man es Eintopf (Ein-Topf).

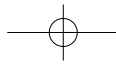
Du hast jetzt erfahren, wie man in der **Wohnküche** gearbeitet hat. In der Wohnküche wurde aber auch gegessen und der Feierabend verbracht.

g) Welche Gegenstände in der Wohnküche zeigen Dir, dass hier gegessen wurde und dass man hier den Feierabend mit Gesprächen und kleineren Arbeiten verbringen konnte?

Nenne diese Gegenstände!







Wie wurde die Wohnküche genutzt?

Verbinde die richtigen Aussagen mit dem Kreis in der Mitte!



wurde die Milch
verarbeitet.

wurde
der Feierabend
verbracht.

wurde geschlafen.

**In der
Wohnküche**
...

wurden
die Mahlzeiten
eingenommen.

wurde
das Essen
gekocht.

wurde Brot
gebacken.

